

Examen: n°32790 "A - Règlementation du T3P - 26 novembre 2019"

Copie n°768732

Reference de l'examen: 210106-9176-10699-32790

Légende

 à cocher

Attention, l'étudiant n'a pas encore passé l'examen

1 Citez deux cas dans lesquels la carte professionnelle peut être retirée à un conducteur du T3P ?

Indication/Right answer : Annulation permis de conduire.

Délit pénal prévu par le code des transports (délits routiers, agressions sexuelles, cf code des transports, ...)

(0 point / 2) Question ouverte

2 Pour s'inscrire à l'examen d'accès à la profession, le candidat ne doit pas avoir fait l'objet d'une exclusion pour fraude lors d'une session à un examen du T3P :

A dans les 10 ans qui précèdent sa demande

B dans les 5 ans qui précèdent sa demande

C dans l'année

D dans les 2 ans qui précèdent sa demande

(0 point / 1) Question à choix multiple

3 Un examen médical supplémentaire à celui exigé pour exercer la profession de conducteur peut être demandé :

A En cas d'interruption d'activité pendant plus de six mois

B En cas de suspension du permis de conduire de moins d'un mois

C En cas d'invalidation et d'annulation du permis de conduire

(0 point / 1) Question à choix multiple

4 Qu'est-ce qu'un service de transport régulier ?

Indication/Right answer : Service collectif dont l'itinéraire, les points d'arrêt, les fréquences les horaires, les tarifs sont fixés et publiés à l'avance.

(0 point / 2) Question ouverte

5 L'assurance dite responsabilité civile professionnelle (RCP) peut être invoquée par le conducteur s'il :

A abîme le vêtement de son passager en l'accompagnant jusqu'à son hôtel

B accroche un autre véhicule en manœuvrant pour se garer

C est contrôlé et n'a pas sa carte professionnelle

(0 point / 1) Question à choix multiple

6 Si un chauffeur utilise son véhicule T3P dans le cadre d'une activité non-professionnelle que doit-il faire ?

A enlever ou occulter toutes références à la profession exercée

B il n'a pas le droit d'utiliser son véhicule en dehors de son activité professionnelle

C apposer un panneau indiquant qu'il ne prend pas de client

D ne rien faire de spécifique

(0 point / 1) Question à choix multiple

7 Parmi les condamnations suivantes, lesquelles peuvent être mentionnées au bulletin n° 2 du casier judiciaire ?

A transporter et déposer des objets, déchets, liquides insalubres en un lieu sans l'autorisation de la personne ayant la jouissance du lieu

B transporter un appareil permettant de déceler la présence de systèmes servant à la constatation des infractions à la législation, ou à la réglementation de la circulation routière

C poursuivre sa route, en connaissance de cause, après avoir occasionné un accident

D conduire avec un taux d'alcool dans le sang de 0,8 gramme par litre ou plus

(0 point / 1) Question à choix multiple

8 Quel est le terme utilisé quand un conducteur de T3P prend en charge un client sur la voie publique sans réservation au préalable ?

Indication/Right answer : La maraude

(0 point / 2) Question ouverte

9 Qui parmi les T3P peuvent être conventionnés par la caisse d'assurance maladie ?

A Les taxis

B Les VTC

C Les véhicules motorisés à 2 ou 3 roues

(0 point / 1) Question à choix multiple

10 La réglementation du T3P se trouve dans le :

- A code préfectoral
B code du travail
C code pénal
D code du transport

(0 point / 1) Question à choix multiple

11 Quelles sont les sanctions administratives encourues par un conducteur de T3P en cas de violation de la réglementation de la profession ?

Indication/Right answer : L'avertissement

Le retrait (temporaire ou définitif) de la carte professionnelle.

(0 point / 2) Question ouverte

12 Un artisan effectuant du T3P est victime d'un accident corporel de la circulation dans l'exercice de son activité, sous quel régime est-il :

- A pas de régime particulier
B accident du travail
C de l'arrêt maladie

(0 point / 1) Question à choix multiple

13 Une centrale de réservation doit justifier de l'existence d'un contrat d'assurance couvrant quel type de responsabilité ?

Indication/Right answer : Elle doit prouver l'existence d'un contrat d'assurance couvrant sa responsabilité civile professionnelle

(0 point / 2) Question ouverte

14 Un conducteur de transport public particulier de personnes n'effectuant que des remplacements épisodiques doit-il être titulaire d'une carte professionnelle ?

- A non si ces remplacements représentent moins de 10 heures par semaine.
B non
C oui

(0 point / 1) Question à choix multiple

15 Les centres de formation sont agréés par :

- A le préfet du département
B le ministère des transports
C le préfet de la région


(0 point / 1) Question à choix multiple

Examen: n°32841 "B - Gestion - 26 novembre 2019"

Copie n°770724

Reference de l'examen: 210107-9176-10711-32841

Légende

 à cocher

Attention, l'étudiant n'a pas encore passé l'examen


1 Lors de la création d'une société la rédaction d'une annonce légale est :

- A obligatoire
B nécessaire pour faire de la publicité
C facultative

 Question à choix multiple


2 L'adhérent d'un centre de gestion agréé :

- A N'a pas le droit d'accepter les paiements en espèces
B Est tenu d'accepter les paiements par chèque
C Ne peut accepter les paiements par carte bancaire

 Question à choix multiple

3 Que signifie le signe CRDS ?

- A contribution pour la réduction de la dette sociale
B contribution régionale pour les dépenses sociales
C contribution pour le regroupement des dettes sociales
D contribution pour le remboursement de la dette sociale

 Question à choix multiple

4 Pour être immatriculé au Répertoire des métiers, le futur chef d'entreprise du T3P doit :

- A être titulaire du permis D transports en commun
B avoir une qualification professionnelle spécifique
C être propriétaire de son véhicule

 Question à choix multiple

5 Un véhicule est acquis 22 000 € HT le 1er avril 2016. Calculez l'amortissement 2016, bilan au 31/12/2016, en tenant compte d'une durée d'amortissement de 4 ans.

- A 5 500 €
B 4 125 €
C 6 574 €
D 5 885 €

 Question à choix multiple


6 Le cout de revient d'une prestation est de 22€, vous souhaitez réaliser une marge de 20% sur le prix de vente net de taxe, votre prix de vente net de taxe sera de :

- A 26,00 €
B 26,40 €
C 27,50 €

 Question à choix multiple


7 Quel acte donne naissance à l'entreprise ?

- A le paiement des cotisations sociales
B l'immatriculation au CFE
C la rédaction de la 1ere facture

 Question à choix multiple

8 Pour constituer une entreprise individuelle, le capital minimum à apporter est de :

- A 3 000 €
B 7 500 €
C Aucun capital social minimum n'est requis
D 1 €

 Question à choix multiple

9 L'EBE signifie :

- A encaissement brut excédentaire
B excédent brut d'exploitation

C

excédent bénéficiaire employé

(0 point/1) Question à choix multiple

10 Où sera comptabilisé à la date de clôture de l'exercice comptable le montant des achats réalisés sachant que tous les consommables ont été utilisés ?

- A dotation aux amortissements
 B créances fournisseurs
 C compte de résultat
 D passif du bilan

(0 point/1) Question à choix multiple

11 Les chambres de métiers et de l'artisanat et les chambres de commerce et d'industrie sont des :

- A Etablissements publics
 B Entreprises
 C Collectivités territoriales
 D Associations

(0 point/1) Question à choix multiple

12 La déclaration de cessation de paiement se fait :

- A a la chambre de commerce et d'industrie
 B a la chambre de métiers et de l'artisanat
 C auprès du greffe du Tribunal de Commerce

(0 point/1) Question à choix multiple

13 Citez 2 types d'immobilisations.

Indication/Right answer : Immobilisations corporelles, immobilisations incorporelles, immobilisations financières.

(0 point/2) Question ouverte

14 Deux personnes décident de créer une SARL en détenant chacune la moitié des parts sociales. Elles souhaitent exercer en commun la gérance de la société. Indiquez le statut social de ces deux personnes :

- A statut d'entrepreneur individuel
 B statut des travailleurs non-salariés
 C statut des salariés

(0 point/1) Question à choix multiple

15 Vous créez seul(e) une activité de transport de personnes. Quels sont les statuts juridiques possibles ? (citez-en trois)

Indication/Right answer : Entreprise Individuelle et/ou microentreprise

Entreprise individuelle à Responsabilité Limitée

EURL

SASU

(0 point/2) Question ouverte

16 La CSG :

- A est un impôt supporté par le salarié et prélevé sur sa fiche de paie
 B signifie « Contribution Salariale Généralisée »
 C est un impôt prélevé à la source.

(0 point/1) Question à choix multiple

17 Parmi les 3 termes de comptabilité suivants, lequel n'est pas une composante de l'actif du bilan ?

- A le résultat de l'exercice
 B les disponibilités
 C les frais d'établissement

(0 point/1) Question à choix multiple

18 Le capital social d'une SARL est divisé en :

- A actions
 B parts sociales
 C obligations

(0 point/1) Question à choix multiple

Examen: n°32792 "C - sécurité routière - 26 novembre 2019"

Copie n°768734

Reference de l'examen: 210106-9176-10701-32792

Légende

à cocher

Attention, l'étudiant n'a pas encore passé l'examen



1 Ce panneau :

- A m'oblige à réduire ma vitesse
- B m'indique une descente dangereuse dans un sens de circulation unique sur deux voies
- C m'indique une descente dangereuse sur une distance de 1 500 mètres
- D m'indique une descente dangereuse dans 1 500 mètres de distance

(0 point / 3) Question à choix multiple

2 Est titulaire d'un permis probatoire tout conducteur qui obtient le permis de conduire :

- A après invalidation administrative
- B après annulation judiciaire du précédent titre
- C après réussite à la catégorie A lorsqu'il est titulaire de la catégorie B depuis plus de trois ans

(0 point / 1) Question à choix multiple

3 Quelles sont les conditions d'utilisation du triangle de pré-signalisation en agglomération ?

- A Il n'y a pas de conditions d'utilisation
- B Il doit être placé sur la chaussée à une distance de 30 mètres environ du véhicule ou de l'obstacle à signaler
- C Il faut placer le triangle de signalisation même si cette action constitue une mise en danger manifeste de la vie du conducteur
- D Il doit être placé sur le toit du véhicule

(0 point / 1) Question à choix multiple

4 En suivant un stage de sensibilisation à la sécurité routière, un conducteur qui a commis une infraction ayant donné lieu à un retrait de points peut retrouver :

- A 10 points
- B 8 points
- C 4 points

(0 point / 3) Question à choix multiple

5 Comment se nomme une ligne possédant une bande de 3 mètres dont les intervalles sont de 1,33 mètre ?

- A une bande d'arrêt d'urgence
- B une ligne d'insertion
- C une ligne discontinue
- D une ligne de dissuasion

(0 point / 3) Question à choix multiple

6 Le dépistage de stupéfiants est :

- A possible lors d'un accident corporel ou matériel
- B obligatoire pour toute infraction
- C obligatoire lors d'un accident mortel

(0 point / 1) Question à choix multiple

7 A 50 km/h, la distance de sécurité est de :

A

- 20 mètres
B 40 mètres
C 30 mètres

(0 point / 1) Question à choix multiple

8 Un conducteur qui commet un excès de vitesse de 40 km/h au-dessus de la vitesse autorisée risque :

- A une peine d'emprisonnement
B la suspension de son permis de conduire
C la réduction de six points du permis de conduire

(0 point / 1) Question à choix multiple

9 Dans un tunnel éclairé, hors agglomération, je circule :

- A en feux de croisement
B en feux de route
C en feux de brouillard

(0 point / 1) Question à choix multiple

10 Contrôlé avec un taux d'alcool de 0,7 gramme par litre de sang, je risque :

- A une amende
B un retrait de 4 points sur mon permis de conduire
C un retrait de 6 points sur mon permis de conduire
D une peine de prison

(0 point / 1) Question à choix multiple

11 Pour dépasser un cycliste hors agglomération, le code de la route impose au conducteur de laisser un espace latéral :

- A Suffisant, en fonction de la largeur de la chaussée
B De 1,5 mètre au minimum
C De 1 mètre au minimum

(0 point / 3) Question à choix multiple

12 Dans quel délai un automobiliste doit-il transmettre un constat amiable à son assureur ?

- A 1 mois
B 7 jours
C 2 jours
D 5 jours

(0 point / 1) Question à choix multiple

13 Lorsque je manœuvre :

- A je suis toujours prioritaire
B je dois la priorité durant la manœuvre
C je dois la priorité avant de manœuvrer

(0 point / 1) Question à choix multiple

14 Par temps de pluie, l'utilisation des feux de brouillard arrière est :

- A interdite
B obligatoire
C conseillée

(0 point / 1) Question à choix multiple

15 Que faut-il faire en cas d'incendie dans un tunnel :

- A faire un demi-tour avec son véhicule pour fuir plus vite
B laisser les clefs de contact sur le véhicule, après avoir éteint le moteur
C évacuer le tunnel par l'issue de secours la plus proche

(0 point / 1) Question à choix multiple

16 Le non-port de la ceinture de sécurité en voiture peut entraîner un retrait sur le permis de conduire de :

- A 2 points
B 3 points
C 4 points

(0 point / 1) Question à choix multiple



Cet emplacement :

- A son occupation illicite est punie d'une contravention de troisième classe
- B son occupation illicite fait encourir une mise en fourrière du véhicule
- C est réservé aux véhicules portant une carte de stationnement pour personnes handicapées
- D est réservé aux véhicules transportant une ou plusieurs personnes handicapées

(10 point / 1) Question à choix multiple

18 L'ABS (système d'antiblocage des roues):

- A aide à maintenir la direction du véhicule
- B réduit considérablement la distance d'arrêt
- C permet de ne pas allonger la distance d'arrêt
- D permet de ne pas allonger la distance d'arrêt

(10 point / 1) Question à choix multiple

19 Les véhicules particuliers immatriculés avant le 1er janvier de quelle année (essence et diesel) ne peuvent pas circuler dans la Capitale en semaine de 8h à 20h ?

- A 1er janvier 1997
- B 1er janvier 1998
- C 1er janvier 1995
- D 1er janvier 1996

(10 point / 1) Question à choix multiple

20 L'accès à une autoroute est interdit aux véhicules qui par construction ne peuvent dépasser la vitesse maximale de :

- A 60 km/h
- B 40 km/h
- C 70 km/h

(10 point / 1) Question à choix multiple

Examen: n° 32793 "D - Français - 26 novembre 2019"

Copie n° 768735

Reference de l'examen: 210106-9176-10702-32793

Légende

à cocher

Attention, l'étudiant n'a pas encore passé l'examen

1 Qu'est-ce qu'il faudrait faire pour faciliter l'interaction entre voitures autonomes et véhicules classiques ?

Indication/Right answer : Interdire la circulation aux véhicules classiques dans certaines zones par exemple.

(0 point / 2) Question ouverte

2 Qui sont les poids lourds qui dépensent des milliards de dollars pour développer cette technologie ?

A Google, General Motors, Tesla

B Google, Uber, Tesla

C Google, Amazon, Elon Musk

(0 point / 2) Question à choix multiple

3 Les dispositifs d'assistance à la conduite permettent au véhicule automatisé de :

A se garer tout seul.

B rouler devant les écoles

C rouler sur certaines portions d'autoroute

(0 point / 2) Question à choix multiple

4 Google teste des taxis :

A sans chauffeurs

B qui coutent des milliards de dollars

C sans pédales

(0 point / 2) Question à choix multiple

5 Si deux piétons discutent sur le bord de la route la voiture sans conducteur:

A s'arrête pour les faire traverser

B a du mal à percevoir s'ils vont traverser ou pas

C roule plus lentement

(0 point / 2) Question à choix multiple

6 Les robots :

A reconnaissent les interactions humaines

B ont du mal à percevoir et anticiper des cas de figure complexes

C sont capables de traiter les intentions

(0 point / 2) Question à choix multiple

7 Quelles situations sont des challenges pour la voiture sans conducteur ?

Indication/Right answer : Une place où l'on croise des vélos, des rollers, d'autres conducteurs humains, ou une route passant devant une école avec plein d'enfants.

(0 point / 2) Question ouverte

8 Pourquoi les interactions avec les humains sont-elles complexes pour les robots ?

Indication/Right answer : Parce que les robots ne savent pas traiter les intentions.

(0 point / 2) Question ouverte

9 A partir de quand la voiture sans conducteur pourra-t elle circuler ?

A Demain.

B Avant 50 ans.

C Dans 50 ans ou jamais.

(0 point / 2) Question à choix multiple

La voiture 100% autonome, c'est pour demain? *Publié le 08/03/19*

SANS LES MAINS Pour les experts, la voiture sans conducteur à bord n'est pas encore près de voir le jour .

Quitter le volant des yeux pour regarder une série, ou faire la sieste et se réveiller quelques heures plus tard... à destination. Ce rêve deviendra-t-il réalité ? De Google à Uber en passant par Tesla, plusieurs poids lourds dépensent des milliards de dollars pour développer cette voiture sans conducteur. General Motors veut faire rouler une auto sans volant ni pédale, Google teste des taxis sans chauffeurs en Arizona et Elon Musk parle d'un modèle autonome pour la fin de l'année. Mais les experts sont partagés. Certains assurent que la voiture sans conducteur ne verra pas le jour avant 50 ans, voire jamais ! [...]

Gérer l'imprévu

Aujourd'hui, les constructeurs intègrent des dispositifs d'assistance à la conduite de plus en plus sophistiqués. Alors le véhicule automatisé « sur certaines portions d'autoroute, dans les embouteillages ou capable de se garer tout seul... Tout cela arrive ! », s'enthousiasme Arnaud de La Fortelle. [...] « Mais les interactions avec les humains restent compliquées à gérer. Une place où l'on croise des vélos, des rollers, d'autres conducteurs humains. Ou une route passant devant une école avec plein d'enfants... Ces situations sont un challenge pour la voiture ». Les robots ne savent pas traiter les intentions, confirme Michel Parent, conseiller scientifique [...] spécialisé dans la conduite automatique. « En tant qu'humain, on anticipe des choses très complexes. Quand on observe deux piétons qui discutent sur le bord de la route par exemple, on sait s'ils vont traverser ou non. A l'heure actuelle, les capteurs ont du mal à percevoir et anticiper ces cas de figure. »

Une question de cohabitation

L'interaction entre voitures autonomes et véhicule classique est l'autre grand sujet d'inquiétude. « Cela dit, on ne sait pas comment vont évoluer les choses, nuance Michel Parent. Si on interdit la circulation des voitures classiques dans certaines zones par exemple, cela devient plus envisageable ». [...] D'ici là, mieux vaut garder les yeux sur la route !

<https://www.20minutes.fr/magazine/nouvelles-mobilites-mag/2467503-20190308-voiture-100-autonome-demain>

10 Au sujet de la voiture sans chauffeur les experts sont :

- A partagés
B complètement d'accord
C méfiants

(0 point / 2) Question à choix multiple

Examen: n° 32794 "E - Anglais - 26 novembre 2019"

Copie n° 768736

Reference de l'examen: 210106-9176-10703-32794

Légende

à cocher

Attention, l'étudiant n'a pas encore passé l'examen

1 Est-ce que tout va bien ?

- A is everything ok?
B is everything fine?
C was everything fine?
D are everything ok?

(0 point / 1) Question à choix multiple

2 Sorry! It's quite expensive for us. May we get a price?

- A lower
B gooder
C less
D reduction

(0 point / 1) Question à choix multiple

3 Votre séjour s'est-il bien passé ?

- A Where would you like to go?
B How was your trip?
C Did you enjoy your stay?

(0 point / 1) Question à choix multiple

4 Il est interdit de fumer dans la voiture !

- A it's allowed of smoke in the car!
B it's forbidden to smoke in the car!
C it's forbidden of smoke in the car!

(0 point / 1) Question à choix multiple

5 Do you have change on ten euros?

- A connaissez-vous un bureau de change pour des euros ?
B avez-vous la monnaie sur dix euros ?
C pouvez-vous me donner dix euros ?

(0 point / 1) Question à choix multiple

6 Souhaitez-vous un reçu ?

- A do you want a ticket?
B did you want a bill?
C would you like a receipt?

(0 point / 1) Question à choix multiple

7 Puis-je mettre vos bagages dans le coffre ?

- A May I leave your luggage there?
B May I put your luggage in the trunk?
C May I take your luggage?

(0 point / 1) Question à choix multiple

8 A windscreen :

- A Un déflecteur
B Un GPS
C Un pare-brise

(0 point / 1) Question à choix multiple

9 Où se trouve le musée s'il vous plait?

- A where is the museum please ?
B where is the musee please ?
C where was the museum please ?

(0 point / 1) Question à choix multiple

10 Quelle est la marque de votre voiture ?

- A is that your car?
B how is your car?
C what is the brand of your car?

(0 point / 1) Question à choix multiple

11 My daughter is; she wants to eat now.

- A angry
B hungry
C thirsty

(0 point / 1) Question à choix multiple

12 Recevoir une amende :

- A to receive an almond
B to be fined
C to get a warning

(0 point / 1) Question à choix multiple

13 What does « actually » mean?

- A réellement
B actuellement
C récent

(0 point / 1) Question à choix multiple

14 Can you pick me up at the library, please?

- A pouvez-vous me déposer jusqu'à la librairie, s'il vous plaît ?
B pouvez-vous venir me chercher à la bibliothèque, s'il vous plaît ?
C pouvez-vous me chercher à une bibliothèque, s'il vous plaît ?
D pouvez-vous me porter jusqu'à une librairie, s'il vous plaît ?

(0 point / 1) Question à choix multiple

15 Comment se rend-on au cinéma ?

- A how can I go to the cinema?
B can you tell me the way to the cinema?
C how do you go to the cinema?

(0 point / 1) Question à choix multiple

16 Acceptez-vous les cartes de crédit étrangères ?

- A do you have any money?
B do you take stranger credit cards?
C do you accept foreign credit cards?

(0 point / 1) Question à choix multiple

17 Keep the change :

- A Avez-vous de la monnaie ?
B Gardez cette direction
C Gardez la monnaie

(0 point / 1) Question à choix multiple

18 Taking the bus is cheaper than taking the train:

- A prendre le bus est plus long que prendre le train
B prendre le bus coûte plus cher que prendre le train
C prendre le bus coûte moins cher que prendre le train

(0 point / 1) Question à choix multiple

19 Sélectionnez la phrase correctement formulée :

- A there is a few pubs in Reims
B there is many pubs in Reims
C there are a few pubs in Reims

(0 point / 1) Question à choix multiple

20 For international flights, travelers have to arrive two hours prior to departure

- A pour les vols internationaux, les voyageurs doivent arriver deux heures avant le départ
B les voyageurs étrangers doivent arriver deux heures avant le départ
C pour les vols internationaux, les voyageurs prioritaires arrivent deux heures avant le départ

(0 point / 1) Question à choix multiple

Examen: n° 32798 "F(M) - 26 novembre 2019"

Copie n° 768740

Reference de l'examen: 210106-9176-10707-32798

Légende

à cocher

Attention, l'étudiant n'a pas encore passé l'examen

1 Depuis l'arrêté du 28 juin 2018, quelle est la durée de validité de la nouvelle carte professionnelle de conducteur de VMDTR ?

- A 2ans
 B illimitée
 C 5ans

(0 point / 1) Question à choix multiple

2 L'énergie absorbée par le corps en cas de choc est :

- A d'autant moins importante que la vitesse est élevée
 B d'autant plus importante que la vitesse est élevée
 C toujours la même quelle que soit la vitesse

(0 point / 1) Question à choix multiple

3 Pour assurer une bonne qualité de service aux clients, je dispose de :

- A 2 casques de deux tailles différentes
 B un casque avec un réducteur
 C 2 paires de gants de deux tailles différentes
 D 1 paire de gants

(0 point / 1) Question à choix multiple

4 De quelle couleur est la signalétique spécifique à l'activité de conducteur de véhicules motorisés à deux ou trois roues ?

- A rouge
 B bleue
 C verte

(0 point / 1) Question à choix multiple

5 A kilométre égal et sur un même parcours, un conducteur de deux ou trois roues a :

- A 20 fois plus de risque d'être tué qu'un automobiliste
 B 15 fois plus de risque d'être tué qu'un automobiliste
 C 10 fois plus de risque d'être tué qu'un automobiliste
 D 25 fois plus de risque d'être tué qu'un automobiliste

(0 point / 1) Question à choix multiple

6 Les motocyclettes utilisées pour le transport public de personne doivent avoir une ancienneté :

- A de moins de 3 ans
 B de moins de 10 ans
 C de moins de 5 ans

(0 point / 1) Question à choix multiple

7 Quel est le poids maximum pour transporter un client et ses bagages ?

- A 200Kg + le conducteur
 B limite autorisée par le PTAC
 C aucune limite

(0 point / 1) Question à choix multiple

8 Citez 4 causes d'accident en collision les plus fréquentes (hors climatique)?

Indication/Right answer : Intersection, changement de direction inapproprié de l'automobiliste, dépassement au moment où l'automobiliste tourne, non-respect des distances de sécurité, inattention ou excès de confiance lors d'un freinage, dépassement mal anticipé, baisse de vigilance, vitesse non adaptée

(0 point / 2) Question ouverte

9 Où se situent les lésions le plus souvent constatées chez les motards ? Citez-en au moins 2.

Indication/Right answer : Tête, Membres supérieurs et inférieurs et colonne vertébrale.
 Sera accepté l'énoncé de membre type pied doigt main...

(0 point / 2) Question ouverte

10 Quelle est la classe de la contravention si le casque utilisé n'est pas conforme ?

- A d'une contravention de 4ème classe
B d'une contravention de 5ème classe
C d'une contravention de 2ème classe

(0 point / 1)

Question à choix multiple

11 Citez les 4 vérifications à faire sur une motocyclette avant son utilisation ?

Indication/Right answer : les pneumatiques, les freins, les feux, les niveaux

(0 point / 2)

Question ouverte

12 Quelle est la dimension règlementaire de la motocyclette utilisée pour le T3P ?

- A aucune dimension règlementaire
B 1,80m de long
C 2,10m de long

(0 point / 1)

Question à choix multiple

13 Sur route mouillée à 90Km/h, la distance de freinage est de :

- A 200m
B 100m
C 50m

(0 point / 1)

Question à choix multiple

14 Qu'est-ce que l'effet gyroscopique ?

Indication/Right answer : il correspond au phénomène de conservation de l'axe de rotation d'un objet en rotation. C'est pourquoi nous arrivons à tenir à moto lorsque les roues sont en rotation : ces dernières résistent au changement de direction de leur axe de rotation

(0 point / 2)

Question ouverte

15 Rouler avec les warning :

- A indique que je suis pressé
B est fortement recommandé
C rend la moto plus visible
D est strictement interdit

(0 point / 1)

Question à choix multiple

16 Sur route sèche à 50Km/h, la distance de freinage est de :

- A 10m
B 15m
C 20m

(0 point / 1)


Question à choix multiple

Examen: n°32795 "F(V) - 26 novembre 2019"

Copie n°768737

Reference de l'examen: 210106-9176-10704-32795

Légende

 à cocher

Attention, l'étudiant n'a pas encore passé l'examen

1 Citez 4 qualités indispensables pour l'exercice de la profession de VTC :

Indication/Right answer : Amabilité, ponctualité, sens du service, discrétion, neutralité,

 Question ouverte

2 Qui fixe le prix d'une prestation de VTC, selon quelle contrainte ?

Indication/Right answer : Le chauffeur VTC en fonction de l'offre et de la demande de son lieu d'exercice


 Question ouverte

3 Lorsque vous préparez votre plan de marketing vous devez vous occuper des :

A 3P

B 4P

C 5P

 Question à choix multiple

4 Vous travaillez avec une entreprise qui règle les prestations à 30 jours fin de mois. Si vous émettez votre facture le 2 mars, vous serez réglé le :

A 31 mars

B 2 avril

C 30 avril

 Question à choix multiple

5 En tant qu'exploitant, je peux :

A fixer librement les prix en m'assurant de ne pas travailler à perte

B fixer librement les prix, sous réserve d'être en dessous du prix de revient

C fixer les prix en respectant scrupuleusement la tarification imposée par l'Etat

D fixer librement les prix sans me soucier d'autres éléments de coûts

 Question à choix multiple

6 Un chauffeur VTC, en EURL, fait un chiffre d'affaires de 50 000 €. Il a 10 000 € de charges sociales, a vendu son ancienne voiture 8 000 € et a payé 5 000 € de TVA. Quel est son résultat ?

A 37 000 €

B 43 000 €

C 27 000 €

 Question à choix multiple

7 Qu'est-ce qu'une zone de chalandise ?

A c'est le nombre de conducteurs de VTC qu'il y a dans une zone géographique

B c'est un bateau

C c'est la zone géographique d'où provient la majorité de la clientèle


 Question à choix multiple

8 Dans un calcul de coût de revient, font partie des charges fixes :

A Les impôts et taxes

B Les frais administratifs et les assurances

C Le contrat annuel d'entretien du véhicule

 Question à choix multiple

9 Le conducteur de VTC propose, dans le cadre de sa mission, des prestations de standing auprès d'une clientèle haut de gamme. Pour ces raisons il doit tout mettre en œuvre afin de ne pas avoir une réputation usurpée et se distinguer des autres transporteurs de personnes en :

A Utilisant un véhicule puissant, en bon état de propreté afin de déposer le client le plus rapidement possible au mépris des règles élémentaires

B Optimisant sa structure, adoptant une attitude et un comportement professionnel et disposant d'un véhicule remarquable et remarqué

C Prenant en charge tous les clients avec qui il peut être rentable sans tenir compte de la qualité de la prestation

D

Prenant en charge des clients sans tenir compte des valeurs du conducteur de VTC, ni de la norme de la profession

(0 point / 1) Question à choix multiple

10 A quoi correspond le chiffre d'affaires d'un exploitant VTC ?

Indication/Right answer : Il correspond à la somme des prestations réalisées au cours d'un exercice (transports et prestations annexes).

(0 point / 2) Question ouverte

11 Lorsque le client du VTC règle sa facture par anticipation, il peut bénéficier :

- A d'une réduction au libre choix de l'exploitant
- B d'une remise tarifaire
- C d'une réduction calculée à partir du taux de la Banque Centrale Européenne
- D d'un escompte

(0 point / 1) Question à choix multiple

12 Qu'est-ce qu'un prospect ?

- A un client potentiel
- B l'ensemble des clients non facturés uniquement
- C une publicité sur format papier A5 ou plus petit permettant au conducteur de VTC de se faire connaître
- D une brochure publicitaire référençant l'ensemble d'un catalogue de prestation

(0 point / 1) Question à choix multiple

13 Qu'est-ce que le marché en mercatique ?

- A le lieu où des producteurs se rassemblent pour proposer directement leurs produits/prestations aux consommateurs
- B l'ensemble des vendeurs et des acheteurs concernés par l'échange d'un bien ou d'un service
- C le lieu de rencontre physique ou virtuel de l'offre et de la demande

(0 point / 1) Question à choix multiple

14 Le prix de vente d'une prestation doit être égal au :

- A coût de revient + TVA
- B coût de revient + marge + TVA
- C total des charges variables + TVA

(0 point / 1) Question à choix multiple

15 Quelle affirmation est vraie :

- A lorsque l'offre est inférieure à la demande, les prix diminuent
- B lorsque l'offre est supérieure à la demande, les prix augmentent
- C lorsque l'offre est supérieure à la demande, les prix diminuent

(0 point / 1) Question à choix multiple

16 Le site internet de mon entreprise doit me permettre de :

- A présenter mes services et savoir-faire
- B proposer mes produits uniquement à l'extérieur de ma zone de chalandise
- C générer de nouveaux contacts auprès de prospects potentiels

(0 point / 1) Question à choix multiple

Examen: n°32797 "G(T) - 26 novembre 2019"

Copie n°768739

Reference de l'examen: 210106-9176-10706-32797

Légende

à cocher

Attention, l'étudiant n'a pas encore passé l'examen

1 Où doit être apposée la carte professionnelle d'un conducteur de taxi ?

- A sur le pare-brise avant côté passager
B dans le véhicule, tant qu'elle est lisible du siège arrière
C sur le pare-brise avant côté conducteur

(0 point / 1) Question à choix multiple

2 Lors de la cession d'une autorisation de stationnement, quel document permet notamment au vendeur de justifier qu'elle a bien été exploitée de manière effective et continue ?

- A Un certificat médical délivré par un médecin agréé
B La carte grise du véhicule
C Les avis d'imposition de la période concernée

(0 point / 1) Question à choix multiple

3 Le véhicule taxi doit être muni d'une plaque :

- A indiquant le nom du propriétaire de l'ADS
B visible de l'extérieur
C indiquant l'adresse de la préfecture
D indiquant le numéro de l'autorisation de stationnement

(0 point / 1) Question à choix multiple

4 Citez les 2 types de trajet ouvrant droit au remboursement d'une fraction de la TICPE.

Indication/Right answer : Exercice de la profession et aller-retour quotidien domicile lieu de travail.

(0 point / 2) Question ouverte

5 Les autorisations de stationnement délivrées depuis la loi du 1er octobre 2014 :

- A Peuvent être exploitées par des sociétaires de coopératives
B Doivent être exploitées personnellement
C Peuvent être exploitées par des salariés
D Peuvent être exploitées par des locataires-gérants

(0 point / 1) Question à choix multiple

6 Un compteur horokilométrique permet :

- A De calculer le montant de la course
B D'afficher la durée de la course
C D'afficher le nombre de kilomètre parcourus

(0 point / 1) Question à choix multiple

7 Le véhicule taxi doit être muni d'un terminal de paiement électronique :

- A Si le préfet du département le prévoit par arrêté
B C'est une obligation légale valable sur tout le territoire national
C Uniquement pour les taxis exerçant leur activité dans les zones touristiques

(0 point / 1) Question à choix multiple

8 Quelles sont les sanctions administratives encourues par un titulaire d'une autorisation de stationnement en cas de violation de la réglementation ?

Indication/Right answer : L'avertissement.
Le retrait (temporaire ou définitif) de l'ADS.

(0 point / 2) Question ouverte

9 Le registre de disponibilité des taxis fait l'objet d'un enregistrement d'informations relatives aux ADS lors :

- A des changements des équipements spéciaux
B des renouvellements et des ventes d'ADS
C des formations quinquennales obligatoires pour les conducteurs de taxi
D des délivrances et des retraits d'ADS

(0 point / 1) Question à choix multiple

10 Citez 4 équipements obligatoires hors ceux cités ci-après : taximètre, lumineux, plaques scellées, imprimante.

Indication/Right answer : terminale de paiement électronique

carnet de métrologie

les tarifs

la trousse à pharmacie

un facturier

horodateur (uniquement sur Paris)

(0 point / 2) Question ouverte

11 Le conducteur de taxi a le droit :

A de ne pas attendre les voyageurs s'ils se trouvent dans une voie où le stationnement est impossible

B d'être accompagné de personnes autres que des clients

C de prendre en charge des voyageurs poursuivis par la clameur publique

D de solliciter un pourboire

(0 point / 1) Question à choix multiple

12 Lorsqu'un titulaire ne peut exploiter lui-même son autorisation de stationnement, quelles sont les deux possibilités qui s'offrent à lui pour que son entreprise reste active ?

Indication/Right answer : La location du véhicule taxi à un conducteur de taxi.

L'emploi d'un salarié.

(0 point / 2) Question ouverte

13 Chaque intervention sur les équipements spéciaux des taxis doit être consignée sur un carnet spécifique : comment s'appelle ce document ?

A carnet d'intervention spécifique

B carnet de métrologie

C carnet d'entretien du véhicule

(0 point / 1) Question à choix multiple

14 Le financement en crédit-bail d'un véhicule de taxi permet la déduction fiscale :

A Des loyers du crédit-bail

B De l'amortissement du véhicule

C Des intérêts et de l'assurance décès / incapacité / invalidité

(0 point / 1) Question à choix multiple

15 Quelle(s) mention(s) ne doit(vent) pas figurer sur le registre des transactions (transferts) quand le titulaire d'une ADS présente un successeur à titre onéreux ?

A le nom ou la raison sociale du successeur ou du vendeur

B le numéro d'inscription à la chambre des métiers et de l'artisanat

C le montant de la transaction

D la marque de la voiture

(0 point / 1) Question à choix multiple

16 Un transport vers l'hôpital ou un cabinet médical non pris en charge par la caisse d'assurance maladie peut être effectué :

A uniquement par les taxis conventionnés

B par tous les taxis

C uniquement par les taxis non conventionnés


(0 point / 1) Question à choix multiple

Examen: n° 32840 "G(V) - 26 novembre 2019"

Copie n° 770723

Reference de l'examen: 210107-9176-10710-32840

Légende

 à cocher

Attention, l'étudiant n'a pas encore passé l'examen

1 Quels sont les 4 éléments mentionnés sur la vignette définitive des véhicules de transport avec chauffeur?
Indication/Right answer : le numéro d'inscription de l'entreprise au registre des VTC
le n° d'immatriculation du véhicule.


le QR code (ou code barre bidimensionnel)

le numéro de référence de la vignette

 (0 point / 4) Question ouverte

2 La longueur minimale hors tout d'un véhicule VTC hybride ou électrique :

- A Est de 4,50 mètres
- B Est de 3 mètres
- C Est de 4 mètres
- D Aucune longueur minimale n'est imposée

 (0 point / 2) Question à choix multiple


3 Quelle est l'ancienneté maximale d'un véhicule utilisé en exploitation VTC ?

- A 10 ans
- B 3 ans
- C Il n'y a pas d'ancienneté maximale
- D 6 ans

 (0 point / 2) Question à choix multiple

4 Un véhicule VTC peut-il être électrique ?

- A oui, s'il respecte les conditions de puissance
- B oui, s'il respecte les conditions de taille et de puissance
- C non, c'est interdit
- D oui, quelles que soient la taille et la puissance

 (0 point / 2) Question à choix multiple

5 Le ticket de réservation doit être établi :

- A Sur support papier
- B un engagement oral suffit
- C Sur support électronique

 (0 point / 2) Question à choix multiple

6 Qui délivre la carte professionnelle des conducteurs de VTC ?

- A les organisations professionnelles de VTC
- B la préfecture
- C la chambre de métiers et de l'artisanat
- D la Mairie

 (0 point / 2) Question à choix multiple

7 Citez trois documents à fournir pour remplir la condition de capacité financière ?

Indication/Right answer : Facture ou certificat de cession pour un véhicule en plein propriété.

Contrat de location pour un véhicule en location de longue durée (au-delà de 6 mois).

Attestation de capacité financière rédigée, sur papier à en-tête de l'établissement financier agréé par l'ACPR.

Numéro de SIREN ou SIRET de l'exploitant ayant déjà déclaré et justifié la capacité financière du véhicule.

 (0 point / 4) Question ouverte

8 La taille minimale exigée pour un véhicule de transport avec chauffeur est de :

- A L 4.5m x l 1.8m
- B L 4.8m x l 1.7m
- C L 4.5m x l 1.7m

 (0 point / 2) Question à choix multiple